


②二ばさを羽ばたかせる



①二ばさをクルクル回す



③足をバタバタさせる

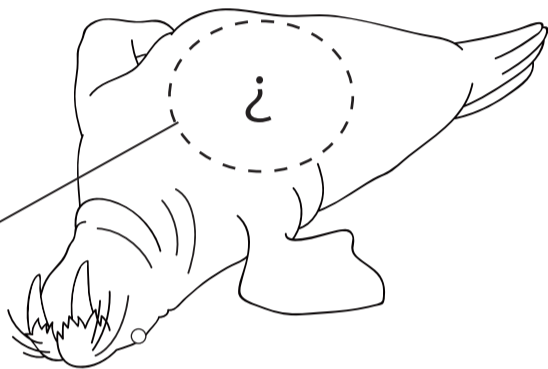


ペンギンはどうやって泳いでいる?

Q7 ペンギン(フェーズ)


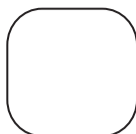


ペンギンのお尻には、ここにある、棘(とげ)があります。教えてみよう。



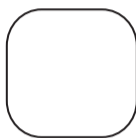
ペンギンのお尻には棘(とげ)がありますか?

Q6 セノウチ(シーズン1F)



セノウチのキバの形は?


Q5 セノウチ(シーズン1F)



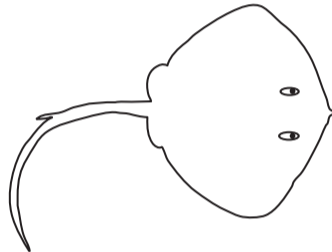
ミノカサゴ(シーズン2F)



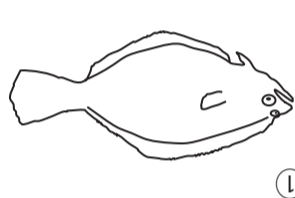
オニコセ(シーズン2F)



アカエイ(いちばん大きなすいそ)



ヒラメ(シーズン2F)



この中でトクを持っている魚はどれを探してみよう!

Q4 キケンな生物(シーズン)


START

やまおり

観察ノート やさしい版 さあ、チャレンジしてみよう!


Q8 イルカ(ダイブ、イルカショー)

イルカはどこで息をしている? ○で場所をかこってみよう!




Q9 カマイルカはどっち?

①



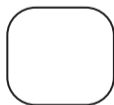
②



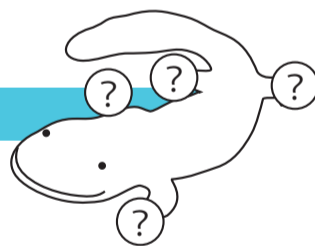
END

Q1 オオサンショウウオ(シーズン3F)

ゆびの数は何本?



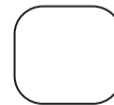
本



*オオサンショウウオが見えないときは、スタッフにきいてみよう

Q2 ハリセンボン(シーズン)

ハリ(とげ)の数は何本?



本

2かいから1かいまでかいだんでおいてみよう。えいぞうに答えがかくれているよ!



Q3 魚たちのシルエット(シーズン2F)

シルエットから魚をさがしてみよう!

①カクレクマノミ ②ニセゴイシウツボ ③ミノカサゴ ④チンアナゴ

